





01

02

03

1.

2.

04

Uvedte všechny výpočty.

05

1.

2.

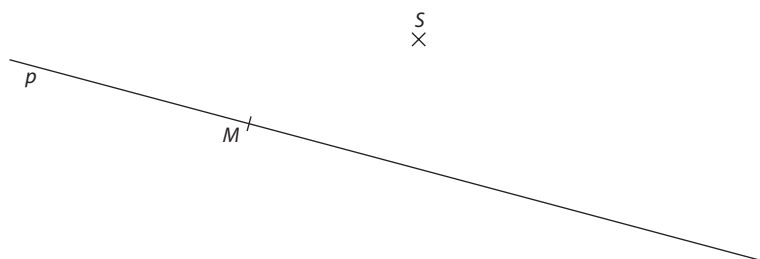
06

1.

2.

07

Obtáhněte všechny čáry, kružnice nebo jejich části propisovací tužkou.





01

02

03

1.

2.

04

Uvedte všechny výpočty.

05

1.

2.

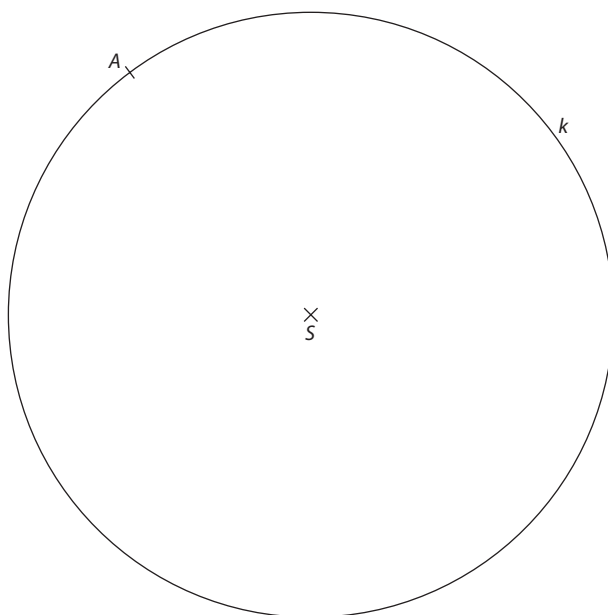
06

1.

2.

07

Obtáhněte všechny čáry, kružnice nebo jejich části propisovací tužkou.





# Didaktický test 4

## pro žáky 5. tříd

Záznamový arch

01

02

03

1.

2.

04

Uvedte všechny výpočty.

05

1.

2.

06

1.

2.

07

Obtáhněte všechny čáry, kružnice nebo jejich části propisovací tužkou.











01

02

03

1.

2.

04

Uvedte všechny výpočty.

05

1.

2.

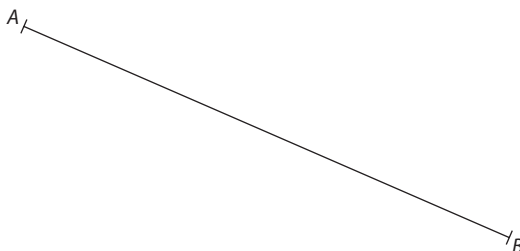
06

1.

2.

07

Obtáhněte všechny čáry, kružnice nebo jejich části propisovací tužkou.







08 1. 2.

09 A N

1.

2.

3.

10 A N

1.

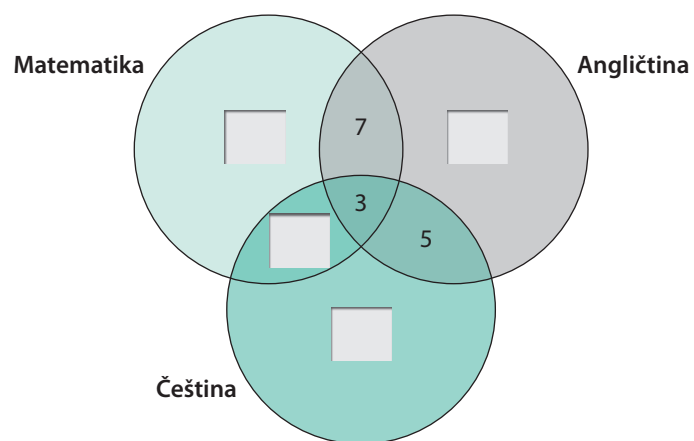
2.

3.

	A	B	C	D	E
11	<input type="checkbox"/>	<input type="checkbox"/>	<input type="checkbox"/>	<input type="checkbox"/>	<input type="checkbox"/>
12	<input type="checkbox"/>	<input type="checkbox"/>	<input type="checkbox"/>	<input type="checkbox"/>	<input type="checkbox"/>
13	<input type="checkbox"/>	<input type="checkbox"/>	<input type="checkbox"/>	<input type="checkbox"/>	<input type="checkbox"/>
14	<input type="checkbox"/>	<input type="checkbox"/>	<input type="checkbox"/>	<input type="checkbox"/>	<input type="checkbox"/>

	A	B	C	D	E	F
15	<input type="checkbox"/>	<input type="checkbox"/>	<input type="checkbox"/>	<input type="checkbox"/>	<input type="checkbox"/>	<input type="checkbox"/>
1.	<input type="checkbox"/>	<input type="checkbox"/>	<input type="checkbox"/>	<input type="checkbox"/>	<input type="checkbox"/>	<input type="checkbox"/>
2.	<input type="checkbox"/>	<input type="checkbox"/>	<input type="checkbox"/>	<input type="checkbox"/>	<input type="checkbox"/>	<input type="checkbox"/>
3.	<input type="checkbox"/>	<input type="checkbox"/>	<input type="checkbox"/>	<input type="checkbox"/>	<input type="checkbox"/>	<input type="checkbox"/>

16 Uvedte všechny výpočty.



01

02

03 Uvedte postup řešení.

1.

2.

04

1.

2.

05

1.

2.

06

1.

2.

07

08

Uvedte postup řešení.

1.

2.



09 Uvedte postup řešení.

1.

2.

10 Obtáhněte všechny čáry, kružnice nebo jejich části propisovací tužkou.

A<sup>x</sup>

<sup>x</sup>  
B

5.

11 A N

1.  2.  3.  

A B C D E

13     14     15     

12 A N

1.  2.  3.  

16 A B C D E F

1.      2.      3.      

17 Uvedte postup řešení.

1.

2.

3.

01

02

03 Uvedte postup řešení.

1.

2.

04 1.

2.

05

1.

2.

06

1.

2.

07

08

Uvedte postup řešení.

1.


2.

09 Uvedte postup řešení.

1.

2.

10 Obtáhněte všechny čáry, kružnice nebo jejich části propisovací tužkou.



11 A N

1.  2.  3.  

A B C D E

13     14     15     

12 A N

1.  2.  3.  

16 A B C D E F

1.      2.      3.      

17 Uvedte postup řešení.

1.

2.

01

02

03 Uvedte postup řešení.

1.

2.

04 1.

2.

05

1.

2.

06

1.

2.

07

08

Uvedte postup řešení.

1.

2.

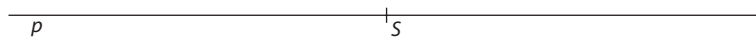


09 Uvedte postup řešení.

1.

2.

10 Obtáhněte všechny čáry, kružnice nebo jejich části propisovací tužkou.



4.

11 A N

1.  2.  3.  

A B C D E

13     14     15     

12 A N

1.  2.  3.  

16 A B C D E F

1.      2.      3.      

17 Uvedte postup řešení.

1.

2.

3.